



**ROTEIRO DE ATIVIDADES COMPLEMENTARES DE ESTUDO – COVID 19**

**2º ROTEIRO 2021**

**ESCOLA MUNICIPAL SÃO FERNANDO**

**PROFESSORA: NUBIA**

**TURMA: EJA ETAPA 1**

**COMPONENTES CURRICULARES: LÍNGUA PORTUGUESA E MATEMÁTICA.**

**PERÍODO DE REALIZAÇÃO: 01 A 05 DE MARÇO.**

**ALUNO(A): \_\_\_\_\_**

<b>O QUE VOCÊ VAI ESTUDAR:</b>	<ul style="list-style-type: none"> <li>➤ <b>LÍNGUA PORTUGUESA:</b> LEITURA E INTERPRETAÇÃO DE DIFERENTES TIPOS TEXTUAIS; ESCRITA DE PALAVRAS.</li> <li>➤ <b>MATEMÁTICA:</b> NUMERAÇÃO ( DEZENAS / DÚZIA).</li> </ul>
<b>PARA QUE VAMOS ESTUDAR ESSES CONTEÚDOS?</b>	<p><b>LÍNGUA PORTUGUESA:</b> DOMÍNIO DO MECANISMO E DOS RECURSOS DO SISTEMA DE REPRESENTAÇÃO ESCRITA, COMPREENDENDO SUAS FUNÇÕES; INTERESSE PELA LEITURA E ESCRITA COMO FONTES DE INFORMAÇÃO, APRENDIZAGEM.</p> <p><b>MATEMÁTICA:</b> RECONHECIMENTO DE NÚMEROS NO CONTEXTO DIÁRIO; LEITURA ,ESCRITA E COMPREENSÃO DE NÚMEROS..</p>
<b>COMO VAMOS ESTUDAR OS CONTEÚDOS?</b>	<ul style="list-style-type: none"> <li>➤ COM AJUDA DE ALGUM FAMILIAR ORGANIZE UM AMBIENTE TRANQUILO E FIQUE ATENTO ÀS EXPLICAÇÕES DADAS PELA PROFESSORA NO WHATSAPP.</li> <li>➤ ORGANIZE-SE COM AS ATIVIDADES PARA NÃO ACUMULAR.</li> <li>➤ SE TIVER DÚVIDA PERGUNTE NO WHATSAPP PARA A PROFESSORA PARA NOVA EXPLICAÇÃO.</li> </ul>
<b>COMO VAMOS REGISTRAR O QUE APRENDEMOS?</b>	<ul style="list-style-type: none"> <li>➤ BUSCANDO AS ATIVIDADES IMPRESSAS NA ESCOLA. LENDO E PREENCHENDO DE ACORDO COM AS ORIENTAÇÕES AS ATIVIDADES ENVIADAS COMPLETAMENTE, SEM DEIXAR NADA EM BRANCO OU INCOMPLETO.</li> <li>➤ OUVINDO ATENTAMENTE AS EXPLICAÇÕES QUE A PROFESSORA ENVIA PELO WHATSAPP E CHAMANDO QUANDO NÃO ENTENDER OU CONSEGUIR FAZER AS ATIVIDADES.</li> <li>➤ DEVOLVENDO AS ATIVIDADES SEMANALMENTE PARA QUE A PROFESSORA FAÇA AS CORREÇÕES NECESSÁRIAS.</li> </ul>

ESCOLA MUNICIPAL SÃO FERNANDO.

ROLÂNDIA, 01 DE MARÇO DE 2021.

HOJE É SEGUNDA-FEIRA.

LÍNGUA PORTUGUESA

1. LEIA O POEMA E ASSISTA O VÍDEO DE CARLOS DRUMONT DE ANDRADE

JOSÉ  
E AGORA, JOSÉ?  
A FESTA ACABOU,  
A LUZ APAGOU,  
O POVO SUMIU,  
A NOITE ESFRIOU,  
E AGORA, JOSÉ?  
E AGORA, VOCÊ?  
VOCÊ QUE É SEM NOME,  
QUE ZOMBA DOS OUTROS,  
VOCÊ QUE FAZ VERSOS,  
QUE AMA, PROTESTA?  
E AGORA, JOSÉ?

2. QUAL O NOME DO PERSONAGEM DO POEMA? \_\_\_\_\_

3. ESCREVA O SEU NOME E SOBRENOME, OU SEJA, SEU NOME COMPLETO:  
\_\_\_\_\_.

4. QUAL É?

A LETRA INICIAL DO SEU NOME	A LETRA FINAL DO SEU NOME



MATEMÁTICA



**RESPONDA AS QUESTÕES ABAIXO ESCRREVENDO OS NÚMEROS DE SUA VIDA:**

A) IDADE = \_\_\_\_\_

B) DATA DE NASCIMENTO = \_\_\_\_\_

C) NÚMERO DO ENDEREÇO = \_\_\_\_\_

D) QUANTIDADE DE FILHOS = \_\_\_\_\_

E) QUANTOS LOCAIS QUE VOCÊ TRABALHOU = \_\_\_\_\_

F) TELEFONE = \_\_\_\_\_

G) NÚMERO DO ÔNIBUS QUE VOCÊ UTILIZA = \_\_\_\_\_

H) QUANTIDADE DE IRMÃOS = \_\_\_\_\_

I) SEU PESO = \_\_\_\_\_

J) PESSOAS QUE MORAM EM SUA CASA = \_\_\_\_\_



**ESCOLA MUNICIPAL SÃO FERNANDO.**

**ROLÂNDIA, 03 DE MARÇO DE 2021.**

**HOJE É QUARTA- FEIRA.**

**LÍNGUA PORTUGUESA**

**FAÇA A SUA LISTA DE COMPRAS SEPARADO-AS POR SEÇÕES:**

MAÇÃ	SABONETE	ARROZ	SABÃO EM PÓ	BATATA	LÁPIS
ESPONJA	PASTA DE DENTES	RÉGUA	PÃO	BORRACHA	
PAPEL HIGIÊNICO	CANETA	CARNE	CADERNO	FEIJÃO	COLA
MAMÃO	AMACIANTE	APONTADOR	FRANGO	GUACHE	ÁGUA
SANITÁRIA	ÁLCOOL	BANANA	PINCEL	BOLACHA	

<b>ALIMENTOS</b>	<b>MATERIAL DE LIMPEZA</b>	<b>MATERIAIS ESCOLARES</b>

---

**ESCREVA SEUS 3 (TRÊS) ALIMENTOS PREFERIDOS QUE FAZEM PARTE DA LISTA DE COMPRAS:**

\_\_\_\_\_

\_\_\_\_\_

\_\_\_\_\_

**CITE 4 (QUATRO) ITENS DA LISTA QUE SE INICIAM COM VOGAIS: (A, E, I, O, U).**

\_\_\_\_\_

\_\_\_\_\_

\_\_\_\_\_

\_\_\_\_\_

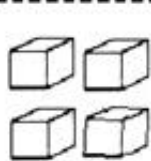
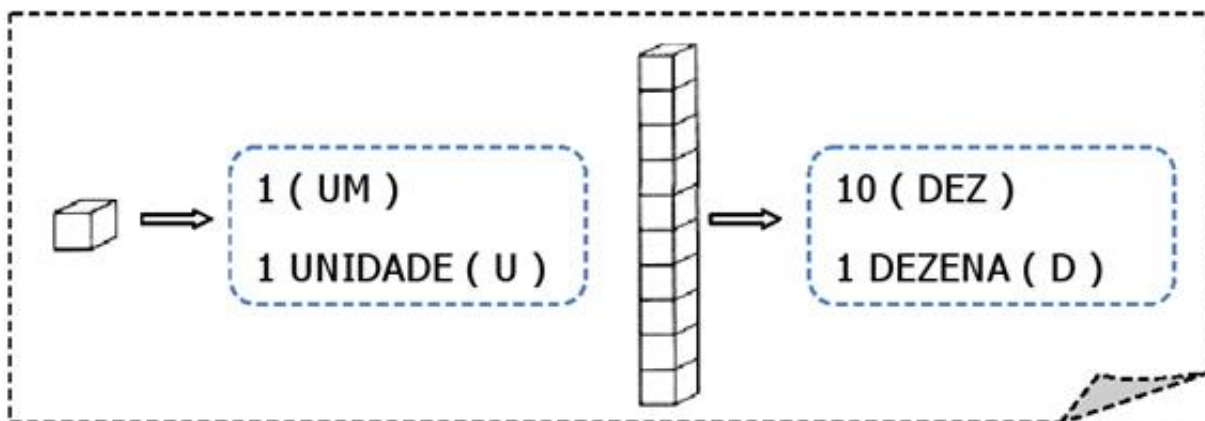
## MATEMÁTICA

QUANTOS ITENS TEM EM CADA SEÇÃO DA LISTA DE COMPRAS:

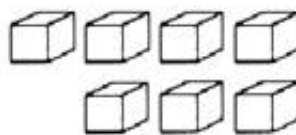
ALIMENTOS:	
MATERIAL DE LIMPEZA:	
MATERIAIS ESCOLARES:	

### DEZENAS E UNIDADES:

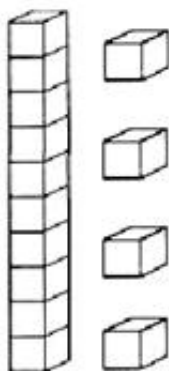
SEGUINDO O EXEMPLO ABAIXO DE MATERIAL DOURADO, COLOQUE NO QUADRO DE VALOR LUGAR AS UNIDADES (U) OU DEZENAS (10).



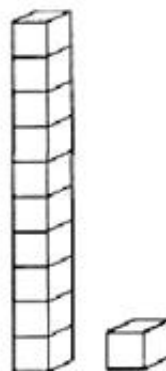
<b>D</b>	<b>U</b>



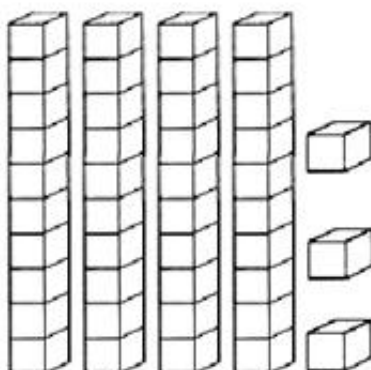
<b>D</b>	<b>U</b>



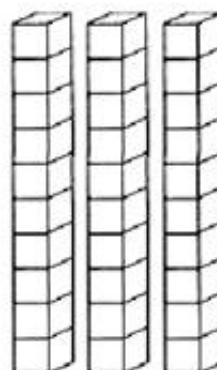
<b>D</b>	<b>U</b>



<b>D</b>	<b>U</b>



<b>D</b>	<b>U</b>



<b>D</b>	<b>U</b>

**DECOMPONHA OS NÚMEROS EM DEZENAS E UNIDADES.  
SIGA O EXEMPLO:**

18

23

36

60

D	U
1	8

D	U

D	U

D	U

ESCOLA MUNICIPAL SÃO FERNANDO.

ROLÂNDIA, 04 DE MARÇO DE 2021.

HOJE É QUINTA-FEIRA.

LÍNGUA PORTUGUESA

COMO SÃO FORMADAS AS PALAVRAS?

AS PALAVRAS SÃO FORMADAS POR PARTES. ESSAS PARTES SE CHAMAM  
SÍLABAS. POR EXEMPLO A PALAVRA BOLA. TEM 2 (DUAS) SÍLABAS.

BO-LA

AGORA É COM VOCÊ:

FORME PALAVRAS COM AS SÍLABAS ABAIXO, DEPOIS CONTE AS SÍLABAS:

MA	RA	DO	LE	BA	BI
CA	TE	LA	VI	PE	PA
NA	A	BO	DA	PI	CO
TO	RO	ÃO	BU	TA	O

_____	A PALAVRA TEM _____ SÍLABAS
_____	A PALAVRA TEM _____ SÍLABAS
_____	A PALAVRA TEM _____ SÍLABAS
_____	A PALAVRA TEM _____ SÍLABAS

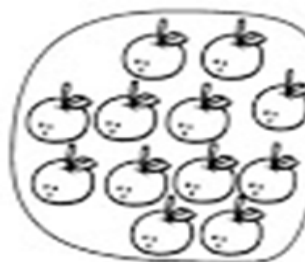
## MATEMÁTICA

### VAMOS TRABALHAR: DÚZIA E MEIA DÚZIA

**ESTE CONJUNTO TEM 12 ELEMENTOS.  
CADA ELEMENTO REPRESENTA 1 UNIDADE.**

**12 UNIDADES FORMAM UMA DÚZIA.**

**OBSERVE AGORA:**



**AQUI TEMOS 6 ELEMENTOS EM CADA CONJUNTO  
QUE REPRESENTAM A METADE DE UMA DÚZIA.  
OU SEJA:**

**6 UNIDADES REPRESENTAM MEIA DÚZIA.**

- 1) A GALINHA VAI CHOCAR UMA DÚZIA DE OVOS. DESENHE OS OVOS  
NO NINHO E COMPLETE:**



**UMA DÚZIA = \_\_\_\_\_ OVOS.**

- 2) CIRCULE MEIA DÚZIA DE PINTINHOS E COMPLETE:**



**MEIA DÚZIA = \_\_\_\_\_ PINTINHOS.**

**ESCREVA POR EXTENSO O NUMERAL 12: \_\_\_\_\_.**



ESCOLA MUNICIPAL SÃO FERNANDO.

ROLÂNDIA, 05 DE MARÇO DE 2021.

HOJE É SEXTA- FEIRA.

LÍNGUA PORTUGUESA

LEIA A POESIA :

PÉ DE FLOR

MARIA DINORAH

O PASSARINHO

FEZ UM BURAQUINHO

NA PAREDE

DO PRÉDIO DO VIZINHO.

NADA DE VERDE

PRA FAZER SEU NINHO

JUNTO À CAIXA-D'ÁGUA.

TANTO CIMENTO

JÁ LHE DAVA MÁGOA

MAS O VIZINHO

DESCOBRIU O NINHO,

E PÔS AO LADO

UM PÉ DE FLOR.

O PASSARINHO

COM UM SORRISINHO,

DISSE BAIXINHO:

“OBRIGADO VIZINHO”

LEIA AS PALAVRAS RETIRADAS DO POEMA E SEPARE AS SÍLABAS:

A. PASSARINHO: PAS-SA-RI-NHO

B. VERDE: \_\_\_\_\_

C. CIMENTO: \_\_\_\_\_

D. NINHO: \_\_\_\_\_

E. MÁGOA: \_\_\_\_\_

CIRCULE OU PINTE NO POEMA TODAS AS PALAVRAS QUE TERMINAM COM NHO.  
AGORA ESCREVA AS PALAVRAS ENCONTRADAS:

\_\_\_\_\_  
\_\_\_\_\_  
\_\_\_\_\_

MATEMÁTICA: TRABALHANDO DÚZIA.

1- CONTE OS OVOS DAS BANDEJAS E COMPLETE:

\* UMA DÚZIA DE OVOS SÃO  
\_\_\_\_\_ OVOS.



\* DUAS DÚZIAS DE OVOS SÃO  
\_\_\_\_\_ OVOS.



\* MEIA DÚZIA DE OVOS SÃO  
\_\_\_\_\_ OVOS.



\* UMA DÚZIA E MEIA DE OVOS SÃO  
\_\_\_\_\_ OVOS.

